

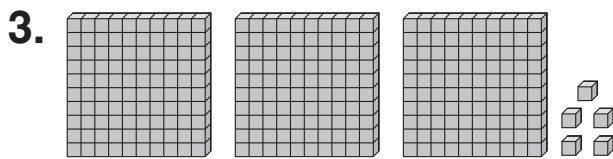
Un crucigrama numérico

Usa las pistas para completar el rompecabezas numérico.

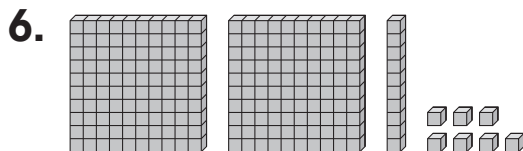
1		2		3		4
		5				
6	7				8	
	9					

Horizontal

1. $500 + 20 + 3$



5. $400 + 20 + 9$



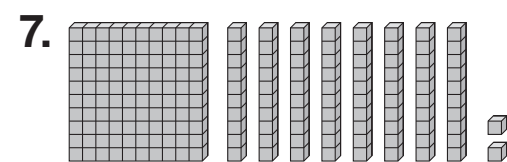
9. Doscientos sesenta y nueve

Vertical

2. $300 + 40 + 7$

3. Trescientos noventa y siete

4. $500 + 60 + 9$



8. Cuatrocientos treinta y ocho