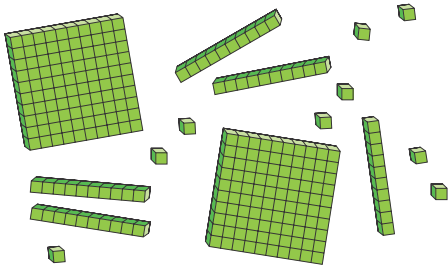
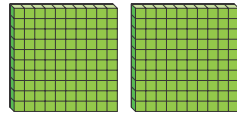


¿Qué número muestra el modelo?



Recuerda: 10 unidades forman 1 decena.  
10 decenas forman 1 centena.

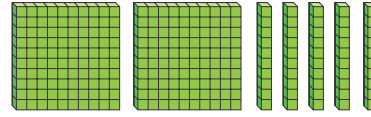
Primero, cuenta las centenas.



Usa una **tabla de valor de posición** para mostrar el valor de cada **dígito**.

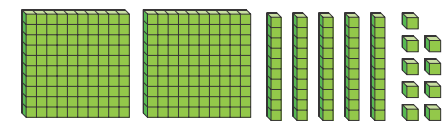
Centenas	Decenas	Unidades
2		

Luego, cuenta las decenas.



Centenas	Decenas	Unidades
2	5	

Luego, cuenta las unidades.



Centenas	Decenas	Unidades
2	5	9

El modelo muestra 259.  
259 tiene 3 dígitos.



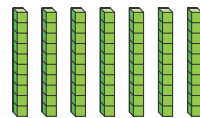
### ¿Lo entiendes?

**¡Demuéstralo!** ¿Cuántas centenas hay en 395?  
¿Cuántas decenas?  
¿Cuántas unidades?

### ☆ Práctica guiada ☆

Escribe los números que se muestran.  
Usa modelos y tu tablero si es necesario.

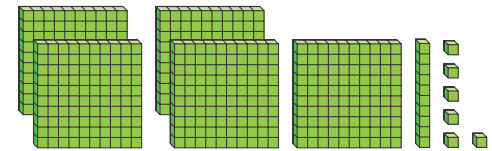
1.



Centenas	Decenas	Unidades
	7	0

70

2.



Centenas	Decenas	Unidades

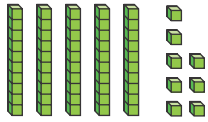
\_\_\_\_\_

Nombre \_\_\_\_\_

★ **Práctica** ★  
**independiente** ★

Escribe los números que se muestran. Usa modelos y tu tablero si es necesario.

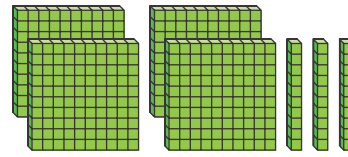
3.



Centenas	Decenas	Unidades

\_\_\_\_\_

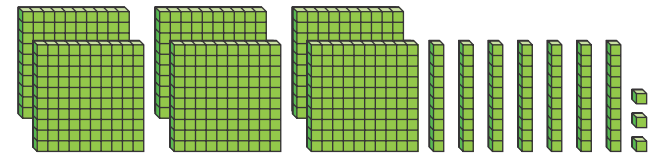
4.



Centenas	Decenas	Unidades

\_\_\_\_\_

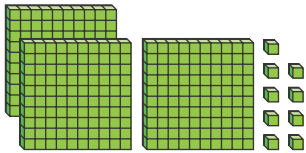
5.



Centenas	Decenas	Unidades

\_\_\_\_\_

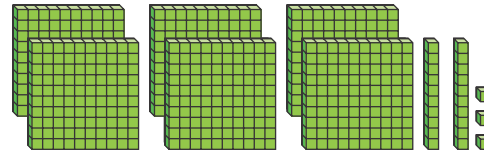
6.



Centenas	Decenas	Unidades

\_\_\_\_\_

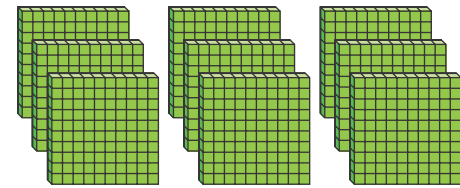
7.



Centenas	Decenas	Unidades

\_\_\_\_\_

8.



Centenas	Decenas	Unidades

\_\_\_\_\_

9. **Razonamiento de orden superior** Halla el número. Tiene 5 centenas. El dígito en el lugar de las decenas está entre 5 y 7. El número de unidades es 2 menos que 4. \_\_\_\_\_

10. **PM.1 Entender** Completa la tabla.  
 Un número tiene un 8 en el lugar de las centenas. No tiene decenas.  
 Tiene un 3 en el lugar de las unidades.  
 Comprueba tu respuesta para averiguar si tiene sentido.

Centenas	Decenas	Unidades

¿Qué número es? \_\_\_\_\_

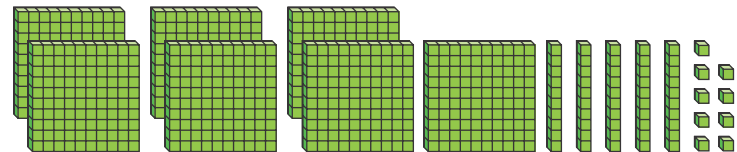
11. Dibuja modelos para mostrar 1 centena, 4 decenas y 3 unidades. Luego, escribe el número en la tabla.

Centenas	Decenas	Unidades

12. **Razonamiento de orden superior** Escoge un número de 3 dígitos.  
 Dibuja modelos para mostrar las centenas, decenas y unidades de tu número.  
 Escribe el número a continuación.

\_\_\_\_\_

13. **Evaluación** Natalia usó este modelo para mostrar un número.  
 ¿Cuál sería el número si Natalia usara 1 placa más de centenas?



- (A) 758
- (B) 768
- (C) 858
- (D) 859